


# Adding With Anthony


Standard:

**M2N2.a** Correctly add two whole numbers up to three digits with regrouping.

1. Choose a scarecrow addition card.
2. Record the addition problem onto the Adding With Anthony recording sheet. Make sure you record the addition problem under the correct letter.
3. Solve the addition problem.



# Adding With Anthony



**A.**

<input type="text"/>	<input type="text"/>	<input type="text"/>
<input type="text"/>	<input type="text"/>	<input type="text"/>
+		
<hr/>		
<input type="text"/>	<input type="text"/>	<input type="text"/>

**B.**

<input type="text"/>	<input type="text"/>	<input type="text"/>
<input type="text"/>	<input type="text"/>	<input type="text"/>
+		
<hr/>		
<input type="text"/>	<input type="text"/>	<input type="text"/>

**C.**

<input type="text"/>	<input type="text"/>	<input type="text"/>
<input type="text"/>	<input type="text"/>	<input type="text"/>
+		
<hr/>		
<input type="text"/>	<input type="text"/>	<input type="text"/>

**D.**

<input type="text"/>	<input type="text"/>	<input type="text"/>
<input type="text"/>	<input type="text"/>	<input type="text"/>
+		
<hr/>		
<input type="text"/>	<input type="text"/>	<input type="text"/>

**E.**

<input type="text"/>	<input type="text"/>	<input type="text"/>
<input type="text"/>	<input type="text"/>	<input type="text"/>
+		
<hr/>		
<input type="text"/>	<input type="text"/>	<input type="text"/>

**F.**

<input type="text"/>	<input type="text"/>	<input type="text"/>
<input type="text"/>	<input type="text"/>	<input type="text"/>
+		
<hr/>		
<input type="text"/>	<input type="text"/>	<input type="text"/>

**G.**

<input type="text"/>	<input type="text"/>	<input type="text"/>
<input type="text"/>	<input type="text"/>	<input type="text"/>
+		
<hr/>		
<input type="text"/>	<input type="text"/>	<input type="text"/>

**H.**

<input type="text"/>	<input type="text"/>	<input type="text"/>
<input type="text"/>	<input type="text"/>	<input type="text"/>
+		
<hr/>		
<input type="text"/>	<input type="text"/>	<input type="text"/>



A.

$$421 + 186$$



B.

$$156 + 144$$




C.

$$214 + 108$$



D.

$$135 + 26$$



E.

$$328 + 481$$



F.

$$517 + 218$$



G.

$$611 + 293$$



H.

$$159 + 87$$